



Übungsblatt 3 · Zahlen bis 5

Zahlen bis 5 · matheeule.de

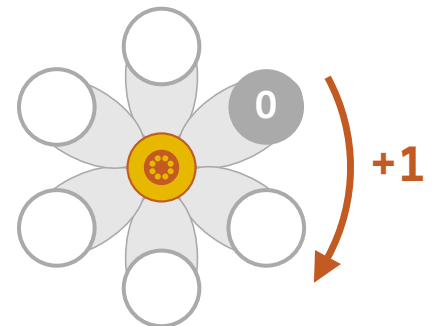
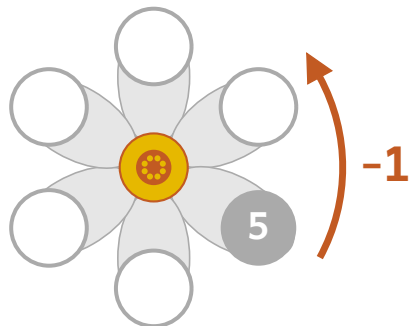
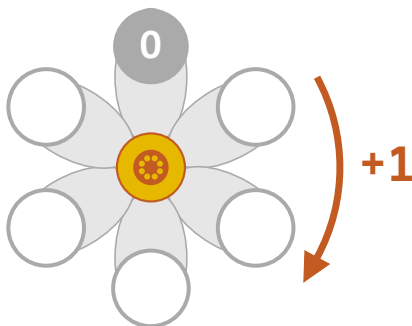
Ergänze die fehlenden Zahlen!

→ matheeule.de/hilfe/klasse1/zahlenstrahl



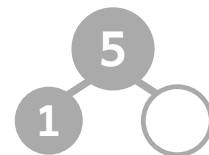
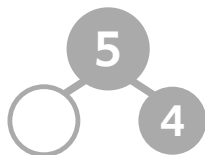
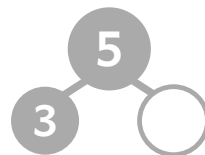
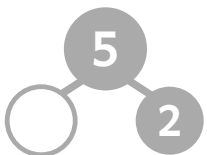
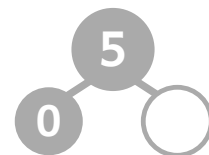
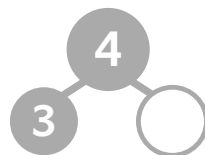
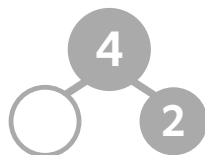
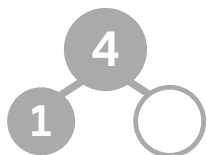
Die Zahlenblume

→ matheeule.de/hilfe/klasse1/zahlenblume



Zerlege die Zahlen!

→ matheeule.de/hilfe/klasse1/zahlzerlegung



Minus - Rechne aus!

→ matheeule.de/hilfe/klasse1/rechenaufgabe

$$3 - 1 = \square$$

$$4 - 2 = \square$$

$$5 - 3 = \square$$

$$5 - 1 = \square$$

$$4 - 3 = \square$$

$$5 - 0 = \square$$

$$3 - 2 = \square$$

$$4 - 1 = \square$$

$$5 - 4 = \square$$



Finde mehr Übungen im Buch:
[Bestell-Link folgt]